

LBRIS

We know  
books


# GENIU LA MATE

ÎNMULTȚIREA ȘI ÎMPĂRȚIREA

și multe altele!




## 1. OBSERVĂ desfășurările de mai jos și scrie cele două înmulțiri posibile!




..... X ..... = .....

..... X ..... = .....




..... X ..... = .....

..... X ..... = .....




..... X ..... = .....

..... X ..... = .....




..... X ..... = .....

..... X ..... = .....



..... X ..... = .....

..... X ..... = .....




..... X ..... = .....

..... X ..... = .....

2. OBSERVĂ desenele și completează.

**Câte petale sunt în total?**




$$\dots + \dots + \dots + \dots = \dots$$

..... repetat de ..... ori

$$\dots \times \dots = \dots$$

**Câte picioare sunt în total?**




$$\dots + \dots + \dots = \dots$$


..... repetat de ..... ori

$$\dots \times \dots = \dots$$


3. REZOLVĂ calculul:



4. COLOREAZĂ cu roșu căsuțele care conțin numere multiplu de 2,  
cu verde pe cele cu multipli de 5  
și cu albastru pe cele cu multipli de 7.



5. COMPLETEAZĂ progresiile desenând figurile corespunzătoare.



6. COMPLETEAZĂ seriile desenând figura corespunzătoare; apoi colorează-le.

